

Система оценивания проверочной работы

Полный правильный ответ на каждое из заданий 1.3, 1.4, 3.1, 4.1, 4.3, 6.3, 7.2 и 8.2 оценивается 1 баллом. Если в ответе допущена хотя бы одна ошибка (один из элементов ответа записан неправильно или не записан), выставляется 0 баллов.

Полный правильный ответ на каждое из заданий 1.2, 4.2 и 5.1 оценивается 2 баллами. Если в ответе допущена одна ошибка, выставляется 1 балл; если допущено две ошибки или более – 0 баллов.

1.2	А – Индийский океан Б – Большой Австралийский залив В – Южный тропик Г – остров Новая Гвинея
1.3	40° ю. ш. 175° в. д. (допускается погрешность в 1°)
1.4	острова Новая Зеландия
3.1	1 – умеренный 2 – тропический 3 – субэкваториальный
4.1	образование бриза / бриз / дневной и ночной бризы
4.2	23541
4.3	разница между нагреванием берега и водоёма, приводящая к различию атмосферного давления над берегом и водоёмом в течение суток (допускается иная, близкая по смыслу формулировка)
5.1	212211
6.3	10.00
7.2	4231
8.2	Б

1

На карте мира, приведённой на странице 4, изображён маршрут экспедиции одного из путешественников, портреты которых представлены ниже. Рассмотрите карту и портреты путешественников и выполните задания.

1.1. Маршрут экспедиции кого из путешественников изображён на карте?



Джеймс Кук



Ф.Ф. Беллинсгаузен



Абель Тасман

Подпишите на карте название материка, вокруг которого проходил маршрут экспедиции.

Содержание верного ответа и указания по оцениванию	Баллы
Правильный ответ должен содержать следующие <u>элементы</u> : 1) указание <u>путешественника</u> : Абель Тасман; 2) подпись <u>названия материка на карте</u> : Австралия	
Правильно указан путешественник, подписан материк	2
Правильно указан путешественник; название материка на карте не подписано / подписано неправильно	1
Путешественник не указан / указан неправильно независимо от подписи названия материка на карте. ИЛИ Ответ неправильный	0
<i>Максимальный балл</i>	2

2

На уроке географии Глеб построил профиль рельефа Евразии, представленный на рисунке 1. Используя рисунок 1 и карту мира, приведённую на странице 4, выполните задания.

2.1. По какому из отрезков, проведённых на карте вдоль трёх параллелей, пересекающих материк Евразия, построен профиль рельефа, представленный на рисунке 1? Укажите в ответе значение параллели.

Определите по карте протяжённость материка Евразия **в градусах** по указанной Вами параллели.

Рассчитайте протяжённость материка Евразия по указанной Вами параллели **в километрах** с помощью приведённой ниже таблицы. (Для расчёта воспользуйтесь калькулятором.)

Широта	0°	10°	20°	30°	40°	50°	60°	70°	80°	90°
Длина дуги параллели в 1°, км	111,3	109,6	104,6	96,5	85,4	71,7	55,8	38,2	19,4	0

Содержание верного ответа и указания по оцениванию	Баллы
Правильный ответ должен содержать <u>три элемента</u> : 1) <u>значение параллели</u> : 60° с. ш.; 2) <u>протяжённость материка в градусах</u> : 164° (допускается погрешность $\pm 2^\circ$); 3) <u>протяжённость материка в километрах</u> : 9151,2 км	
Правильно указаны значение параллели, протяжённость материка в градусах и протяжённость материка в километрах	2
Правильно указаны значение параллели и протяжённость материка в градусах; протяжённость материка в километрах не указана / указана неправильно	1
Правильно указано только значение параллели; протяжённость материка в градусах и протяжённость материка в километрах не указаны / указаны неправильно. ИЛИ Ответ неправильный	0
<i>Максимальный балл</i>	2




2.2. Укажите географическое название крупной формы рельефа, которой соответствует участок профиля, обозначенный на рисунке 1 буквой Б.

Определите наибольшую абсолютную высоту территории, через которую проходит профиль на этом участке.

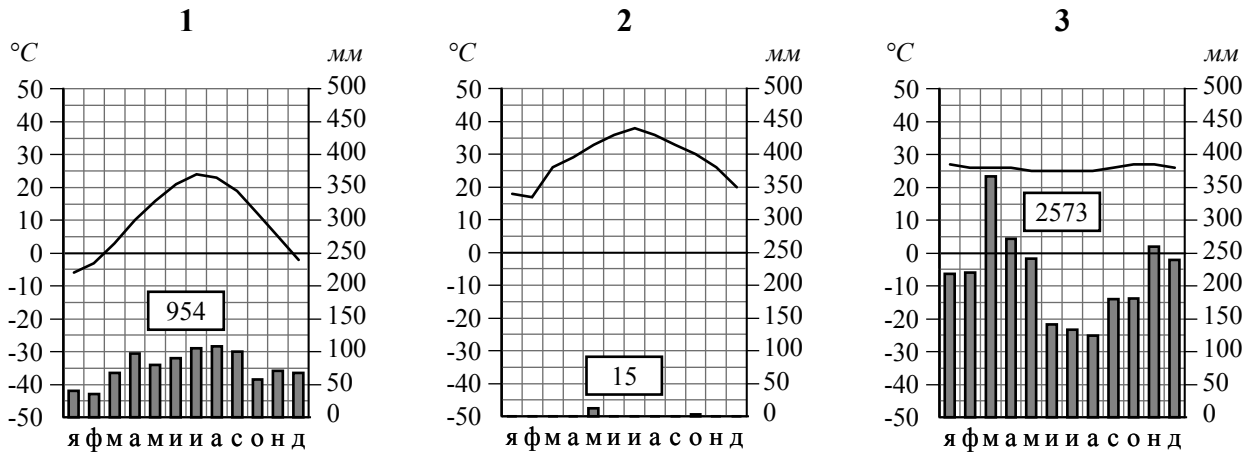
Содержание верного ответа и указания по оцениванию	Баллы
Правильный ответ должен содержать <u>следующие элементы</u> : 1) <u>название формы рельефа</u> : Уральские горы; 2) <u>абсолютная высота территории</u> : 1500 м	
Правильно названа форма рельефа и определена абсолютная высота территории	2
Правильно названа форма рельефа; абсолютная высота территории не определена / определена неправильно	1
Форма рельефа не названа / названа неправильно независимо от определения абсолютной высоты территории. ИЛИ Ответ неправильный	0
<i>Максимальный балл</i>	2

2.3. На рисунке 2 представлены значки, которыми обозначаются месторождения полезных ископаемых на географических картах.

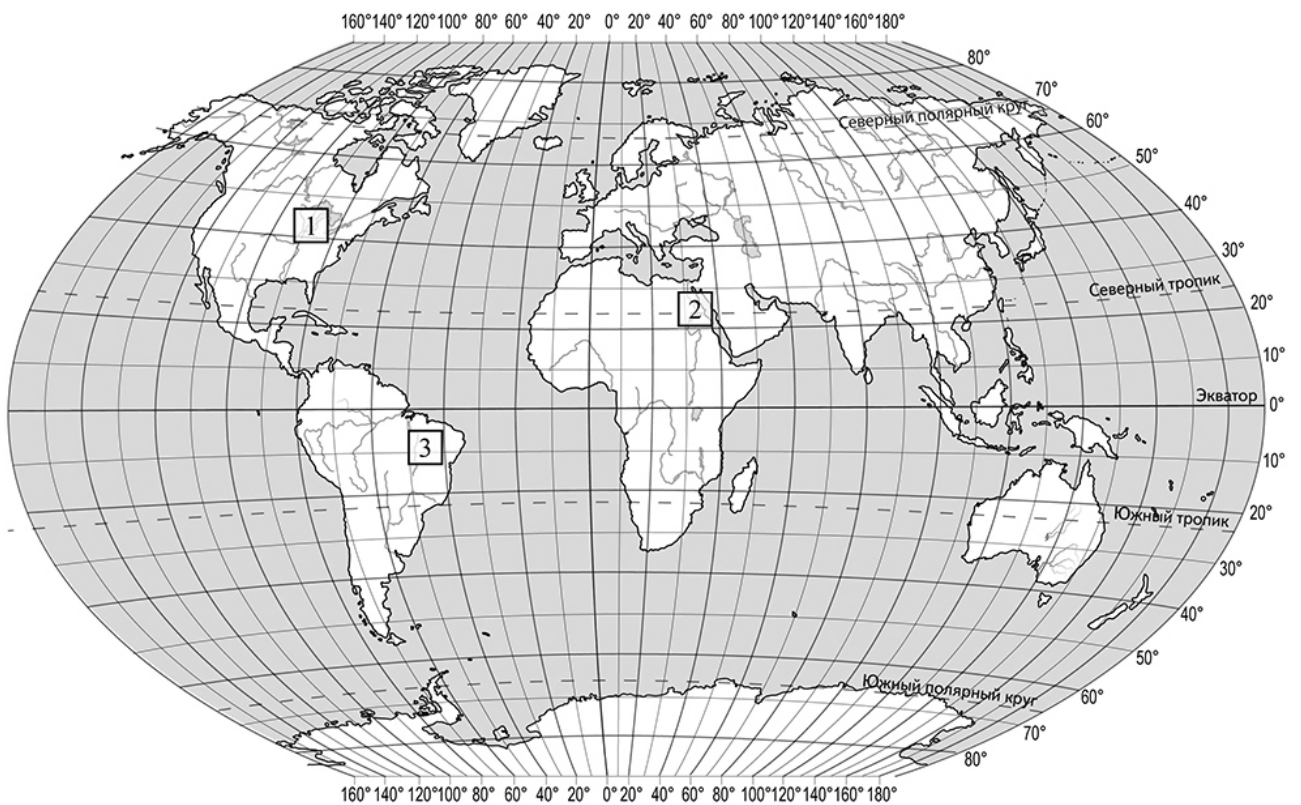
Внесите в таблицу значки, обозначающие месторождения полезных ископаемых, которые добывают на территории, обозначенной на профиле буквой Б.

Содержание верного ответа и указания по оцениванию	Баллы								
Правильный ответ должен содержать таблицу с внесёнными в неё значками полезных ископаемых:									
<table border="1" style="width: 100%; text-align: center;"> <tr> <td>Железные руды</td> <td>Медные руды</td> <td>Поваренная соль</td> <td>Калийные соли</td> </tr> <tr> <td></td> <td></td> <td></td> <td></td> </tr> </table>	Железные руды	Медные руды	Поваренная соль	Калийные соли					
Железные руды	Медные руды	Поваренная соль	Калийные соли						
									
Правильно заполнены четыре ячейки таблицы	2								
Правильно заполнены три ячейки таблицы	1								
Правильно заполнены одна-две ячейки таблицы. ИЛИ Все ячейки таблицы заполнены неправильно / не заполнены	0								
<i>Максимальный балл</i>	2								

3 Рассмотрите рисунки с изображением климатограмм, построенных по данным метеонаблюдений в разных частях Земли, и выполните задания.



3.2. На карте мира, приведённой на странице 4, территории, для которых построены изображённые на рисунках климатограммы, обозначены пустыми квадратами. Впишите в каждый квадрат на карте номер соответствующей климатограммы.



Содержание верного ответа и указания по оцениванию	Баллы
Правильный ответ должен содержать запись трёх номеров климатограмм в пустые квадраты на карте	
Правильно вписаны три номера климатограмм	1
Правильно вписан только один номер климатограммы. ИЛИ Ответ неправильный	0
<i>Максимальный балл</i>	<i>1</i>

3.3. Какой природной зоне мира соответствуют приведённые ниже характеристики? Укажите в ответе название этой природной зоны.

- 1) Отличается резким недостатком влаги и разреженным растительным покровом.
- 2) Почвы очень бедные либо вообще не формируются.
- 3) Встречаются оазисы, где растут финиковая пальма, акации, фруктовые деревья.
- 4) Осадки выпадают редко, обычно в виде коротких ливней, а в некоторых местах по несколько лет не бывает дождей.
- 5) Обитают многие виды пресмыкающихся: змей, ящериц, черепах.

Выберите климатограмму, соответствующую климатическим особенностям указанной Вами природной зоны. Укажите в ответе её номер.

Содержание верного ответа и указания по оцениванию	Баллы
Правильный ответ должен содержать <u>следующие элементы</u> : 1) <u>название природной зоны</u> : пустыни / тропические пустыни; 2) <u>номер климатограммы</u> : 2	
Правильно указаны название природной зоны и номер климатограммы	2
Правильно указано название природной зоны; номер климатограммы не указан / указан неправильно	1
Название природной зоны не указано независимо от указания номера климатограммы. ИЛИ Ответ неправильный	0
<i>Максимальный балл</i>	2

3.4. По выбранной Вами в задании 3.3 климатограмме определите климатические показатели для указанной природной зоны и заполните таблицу.

Содержание верного ответа и указания по оцениванию					Баллы
Правильный ответ должен содержать заполненную таблицу:					
Средняя температура воздуха, °С		Годовая амплитуда температур, °С	Годовое количество осадков, мм	Месяц, на который приходится наибольшее количество осадков	
в январе	в июле				
+18	+38				20
Правильно заполнены все ячейки таблицы					2
В таблице допущена одна ошибка					1
В таблице допущено две или более ошибки. ИЛИ Ответ неправильный					0
<i>Максимальный балл</i>					2

5

5.2. В приведённом ниже списке перечислены крупные географические объекты. Выберите из представленного ниже списка названия географических объектов, расположенных на территории одного из этих материков, и заполните схему. Впишите в схему название материка, типы и названия выбранных Вами географических объектов.

Амур, Ла-Платская, Уэдделла, Парана, Нил, Кордильеры, Антарктический, Маракайбо, Байкал, Ориноко, Котопахи, Мичиган.

Содержание верного ответа и указания по оцениванию	Баллы
<p>Правильный ответ должен содержать заполненную схему с вписанными в неё названием материка, типами и названиями географических объектов.</p> <div style="text-align: center; border: 1px solid black; padding: 10px; margin: 10px auto; width: 80%;"> <p>Материк <i>Южная Америка</i></p> <hr style="width: 50%; margin: 0 auto;"/> <div style="display: flex; justify-content: space-around; margin-top: 10px;"> <div style="border: 1px solid black; padding: 5px; width: 25%;">реки</div> <div style="border: 1px solid black; padding: 5px; width: 25%;"><i>озёра</i></div> <div style="border: 1px solid black; padding: 5px; width: 25%;">низменности</div> </div> <div style="display: flex; justify-content: space-around; margin-top: 10px;"> <div style="border: 1px solid black; padding: 5px; width: 25%;"><i>Парана</i> <i>Ориноко</i></div> <div style="border: 1px solid black; padding: 5px; width: 25%;"><i>Титикака</i> <i>Маракайбо</i></div> <div style="border: 1px solid black; padding: 5px; width: 25%;"><i>Амазонская</i> <i>Ла-Платская</i></div> </div> </div>	
Схема заполнена правильно	3
В заполнении схемы допущена одна ошибка	2
В заполнении схемы допущено две ошибки	1
В заполнении схемы допущено три или более ошибки. ИЛИ Ответ неправильный	0
<i>Максимальный балл</i>	<i>3</i>


6

Кевин и Хосе познакомились на экологической конференции. Кевин живёт в столице Австралии, а Хосе – в столице Испании. Подростки общаются через Интернет, и при общении им приходится учитывать разницу во времени между их городами.

6.1. На политической карте мира, приведённой на странице 11, выделите штриховкой страны, в которых живут подростки.



Содержание верного ответа и указания по оцениванию	Баллы
Правильный ответ должен содержать <u>выделение на карте двух стран</u> : Австралии и Испании	
Правильно выделены две страны	1
Правильно выделена только одна любая страна; вторая страна не выделена / выделена неправильно. ИЛИ Страны не выделены / выделены неправильно	0
<i>Максимальный балл</i>	<i>1</i>

6.2. Часы на рисунках отображают время в городах, где живут подростки. Подпишите названия городов под соответствующими часами.



Гринвич

24:00 (полночь)

Мадрид1 октября
01:00Канберра1 октября
11:00

Содержание верного ответа и указания по оцениванию	Баллы
Правильный ответ должен содержать <u>подписи названий двух городов</u> : Мадрида (столицы Испании) и Канберры (столицы Австралии)	
Правильно подписаны названия двух городов	1
Правильно подписано название только одного любого города; название другого города не подписано / подписано неправильно. ИЛИ Названия городов не подписаны / подписаны неправильно	0
<i>Максимальный балл</i>	<i>1</i>

7

Используя представленную ниже таблицу и политическую карту мира, приведённую на странице 11, выполните задания.

Численность и состав населения, 2017 г.

№	Страна	Численность населения, млн человек	Возрастной состав, %		
			доля населения в возрасте до 15 лет	доля населения в возрасте от 15 до 65 лет	доля населения в возрасте старше 65 лет
1	Аргентина	44,0	24	64	12
2	Исландия	0,3	20	66	14
3	Финляндия	5,5	16	63	21
4	Нигерия	203,0	42	55	3

7.1. Подпишите на политической карте мира название страны с самой большой численностью населения.

Содержание верного ответа и указания по оцениванию	Баллы
Правильный ответ должен содержать <u>подпись страны на карте</u> : Нигерия	
Страна на карте подписана правильно	1
Страна на карте не подписана / подписана неправильно	0
<i>Максимальный балл</i>	<i>1</i>

8

Представьте, что Вам было поручено взять интервью у зарубежного сверстника, чтобы он познакомил Вас со своей страной. Для иллюстрации этого интервью Вы попросили его прислать несколько фотографий, сделанных в стране, в которой он живёт.

8.1. Рассмотрите фотографии и ответьте на вопросы.



В какой стране живёт Ваш сверстник?

Как называется столица этой страны?

Содержание верного ответа и указания по оцениванию	Баллы
Правильный ответ должен содержать <u>ответы на два вопроса</u> : 1) <u>ответ на первый вопрос</u> : в Китае; 2) <u>ответ на второй вопрос</u> : Пекин	
Правильно даны ответы на два вопроса	2
Правильно дан ответ только на первый вопрос; ответ на второй вопрос не дан / дан неправильно	1
Правильно дан ответ только на второй вопрос; ответ на первый вопрос не дан / дан неправильно. ИЛИ Ответы на оба вопроса не даны / даны неправильно	0
<i>Максимальный балл</i>	2

8.3. Предположите, какие ответы на вопросы о своей стране даст Ваш сверстник в ходе интервью. Запишите их в таблицу.

Содержание верного ответа и указания по оцениванию	Баллы																
Правильный ответ должен содержать <u>ответы на семь вопросов</u> .																	
<table border="1"> <thead> <tr> <th>Вопрос</th> <th>Ответ</th> </tr> </thead> <tbody> <tr> <td>1. В какой части света находится твоя страна?</td> <td><i>В Азии</i></td> </tr> <tr> <td>2. Какой океан омывает берега твоей страны?</td> <td><i>Тихий океан</i></td> </tr> <tr> <td>3. Какие реки протекают в твоей стране?</td> <td><i>Янцзы, Хуанхэ, Амур</i></td> </tr> <tr> <td>4. Какие крупные города, кроме столицы, есть в твоей стране?</td> <td><i>Шанхай, Тяньцзинь, Гуанчжоу, Шэньчжэнь, Ухань</i></td> </tr> <tr> <td>5. Какими изобретениями твоя страна известна во всём мире?</td> <td><i>Компас, порох, бумага, воздушный змей, шёлк</i></td> </tr> <tr> <td>6. Какие полезные ископаемые добывают в твоей стране?</td> <td><i>Каменный уголь, железная руда, полиметаллические руды, оловянные руды</i></td> </tr> <tr> <td>7. Какие достопримечательности можно посмотреть в твоей стране?</td> <td><i>Великая Китайская стена, Запретный город, Терракотовая армия, дворец Потала в Лхасе</i></td> </tr> </tbody> </table>	Вопрос	Ответ	1. В какой части света находится твоя страна?	<i>В Азии</i>	2. Какой океан омывает берега твоей страны?	<i>Тихий океан</i>	3. Какие реки протекают в твоей стране?	<i>Янцзы, Хуанхэ, Амур</i>	4. Какие крупные города, кроме столицы, есть в твоей стране?	<i>Шанхай, Тяньцзинь, Гуанчжоу, Шэньчжэнь, Ухань</i>	5. Какими изобретениями твоя страна известна во всём мире?	<i>Компас, порох, бумага, воздушный змей, шёлк</i>	6. Какие полезные ископаемые добывают в твоей стране?	<i>Каменный уголь, железная руда, полиметаллические руды, оловянные руды</i>	7. Какие достопримечательности можно посмотреть в твоей стране?	<i>Великая Китайская стена, Запретный город, Терракотовая армия, дворец Потала в Лхасе</i>	
Вопрос	Ответ																
1. В какой части света находится твоя страна?	<i>В Азии</i>																
2. Какой океан омывает берега твоей страны?	<i>Тихий океан</i>																
3. Какие реки протекают в твоей стране?	<i>Янцзы, Хуанхэ, Амур</i>																
4. Какие крупные города, кроме столицы, есть в твоей стране?	<i>Шанхай, Тяньцзинь, Гуанчжоу, Шэньчжэнь, Ухань</i>																
5. Какими изобретениями твоя страна известна во всём мире?	<i>Компас, порох, бумага, воздушный змей, шёлк</i>																
6. Какие полезные ископаемые добывают в твоей стране?	<i>Каменный уголь, железная руда, полиметаллические руды, оловянные руды</i>																
7. Какие достопримечательности можно посмотреть в твоей стране?	<i>Великая Китайская стена, Запретный город, Терракотовая армия, дворец Потала в Лхасе</i>																
Ответы на вопросы могут быть даны в иных, близких по смыслу формулировках. В ответах, предполагающих указание нескольких объектов, при оценивании может быть засчитано указание одного объекта																	
Правильно даны ответы на все вопросы	2																
Правильно даны ответы на пять-шесть вопросов; в ответе на один-два вопроса допущены ошибки / ответы на один-два вопроса не представлены	1																
Правильно даны ответы на один – четыре вопроса. ИЛИ Ответ неправильный	0																
<i>Максимальный балл</i>	2																

Система оценивания выполнения всей работы

Максимальный балл за выполнение работы – 37.

Рекомендации по переводу первичных баллов в отметки по пятибалльной шкале

Отметка по пятибалльной шкале	«2»	«3»	«4»	«5»
Первичные баллы	0 – 10	11 – 25	26 – 32	33 – 37