

Система оценивания проверочной работы

Полный правильный ответ на каждое из заданий 1.3, 1.4, 3.1, 4.1, 4.3, 6.3, 7.2 и 8.2 оценивается 1 баллом. Если в ответе допущена хотя бы одна ошибка (один из элементов ответа записан неправильно или не записан), выставляется 0 баллов.

Полный правильный ответ на каждое из заданий 1.2, 4.2 и 5.1 оценивается 2 баллами. Если в ответе допущена одна ошибка, выставляется 1 балл; если допущено две ошибки или более – 0 баллов.

1.2	А – Панамский перешеек Б – острова/архипелаг Огненная Земля В – пролив Дрейка Г – экватор
1.3	0° ш. 50° з. д. (допускается погрешность в 1°)
1.4	река Амазонка / устье реки Амазонки
3.1	1 – экваториальный 2 – умеренный 3 – субарктический
4.1	столкновение материковых/континентальных литосферных плит / горообразование
4.2	41235
4.3	землетрясения и извержения вулканов / вулканизм
5.1	122121
6.3	09.00
7.2	4132
8.2	А

1

На карте мира, приведённой на странице 4, изображён маршрут экспедиции одного из путешественников, портреты которых представлены ниже. Рассмотрите карту и портреты путешественников и выполните задания.

1.1. Маршрут экспедиции кого из путешественников изображён на карте?



Джон Кабот



Америго Веспуччи



Абель Тасман

Подпишите на карте название материка, который исследовала эта экспедиция.

Содержание верного ответа и указания по оцениванию	Баллы
Правильный ответ должен содержать следующие <u>элементы</u> : 1) указание <u>путешественника</u> : Америго Веспуччи; 2) подпись <u>названия материка на карте</u> : Южная Америка	
Правильно указан путешественник, подписан материк	2
Правильно указан путешественник; название материка на карте не подписано / подписано неправильно	1
Путешественник не указан / указан неправильно независимо от подписи названия материка на карте. ИЛИ Ответ неправильный	0
<i>Максимальный балл</i>	2

2

На уроке географии Андрей построил профиль рельефа Африки, представленный на рисунке 1. Используя рисунок 1 и карту мира, приведённую на странице 4, выполните задания.

2.1. По какому из отрезков, проведённых на карте вдоль трёх параллелей, пересекающих материк Африка, построен профиль рельефа, представленный на рисунке 1? Укажите в ответе значение параллели.

Определите по карте протяжённость материка Африка **в градусах** по указанной Вами параллели.

Рассчитайте протяжённость материка Африка по указанной Вами параллели **в километрах** с помощью приведённой ниже таблицы. (Для расчёта воспользуйтесь калькулятором.)

Широта	0°	10°	20°	30°	40°	50°	60°	70°	80°	90°
Длина дуги параллели в 1°, км	111,3	109,6	104,6	96,5	85,4	71,7	55,8	38,2	19,4	0

Содержание верного ответа и указания по оцениванию	Баллы
Правильный ответ должен содержать <u>три элемента</u> : 1) <u>значение параллели</u> : 0° (экватор); 2) <u>протяжённость материка в градусах</u> : 34° (допускается погрешность $\pm 2^\circ$); 3) <u>протяжённость материка в километрах</u> : 3784,2 км	
Правильно указаны значение параллели, протяжённость материка в градусах и протяжённость материка в километрах	2
Правильно указаны значение параллели и протяжённость материка в градусах; протяжённость материка в километрах не указана / указана неправильно	1
Правильно указано только значение параллели; протяжённость материка в градусах и протяжённость материка в километрах не указаны / указаны неправильно. ИЛИ Ответ неправильный	0
<i>Максимальный балл</i>	2













2.2. Укажите географическое название крупной формы рельефа, которой соответствует участок профиля, обозначенный на рисунке 1 буквой Б.

Определите наибольшую абсолютную высоту территории, через которую проходит профиль на этом участке.

Содержание верного ответа и указания по оцениванию	Баллы
Правильный ответ должен содержать следующие элементы: 1) название формы рельефа: Восточно-Африканское плоскогорье; 2) абсолютная высота территории: 5000 м	
Правильно названа форма рельефа и определена абсолютная высота территории	2
Правильно названа форма рельефа; абсолютная высота территории не определена / определена неправильно	1
Форма рельефа не названа / названа неправильно независимо от определения абсолютной высоты территории. ИЛИ Ответ неправильный	0
<i>Максимальный балл</i>	2

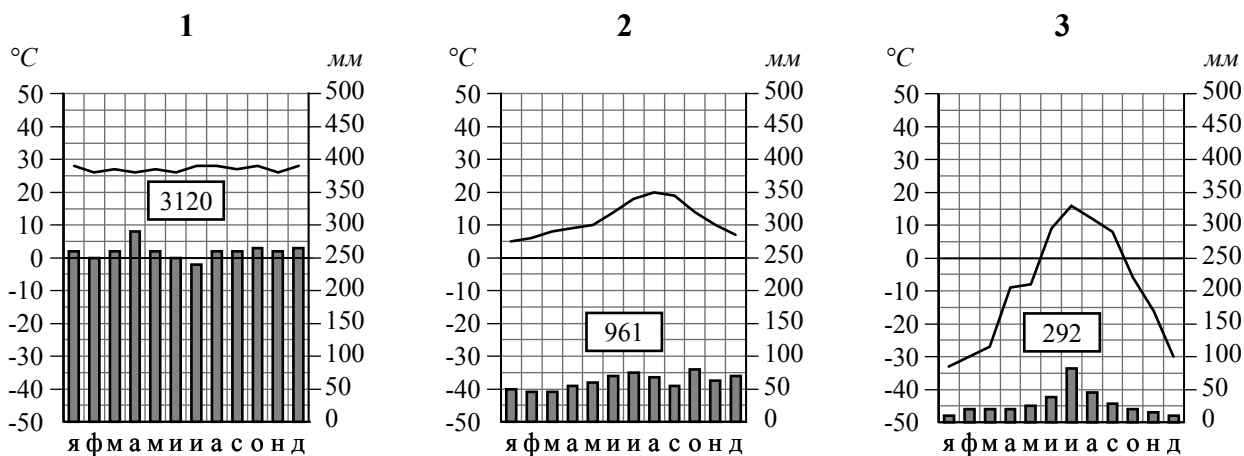
2.3. На рисунке 2 представлены значки, которыми обозначаются месторождения полезных ископаемых на географических картах.

Внесите в таблицу значки, обозначающие месторождения полезных ископаемых, которые добывают на территории, обозначенной на профиле буквой Б.

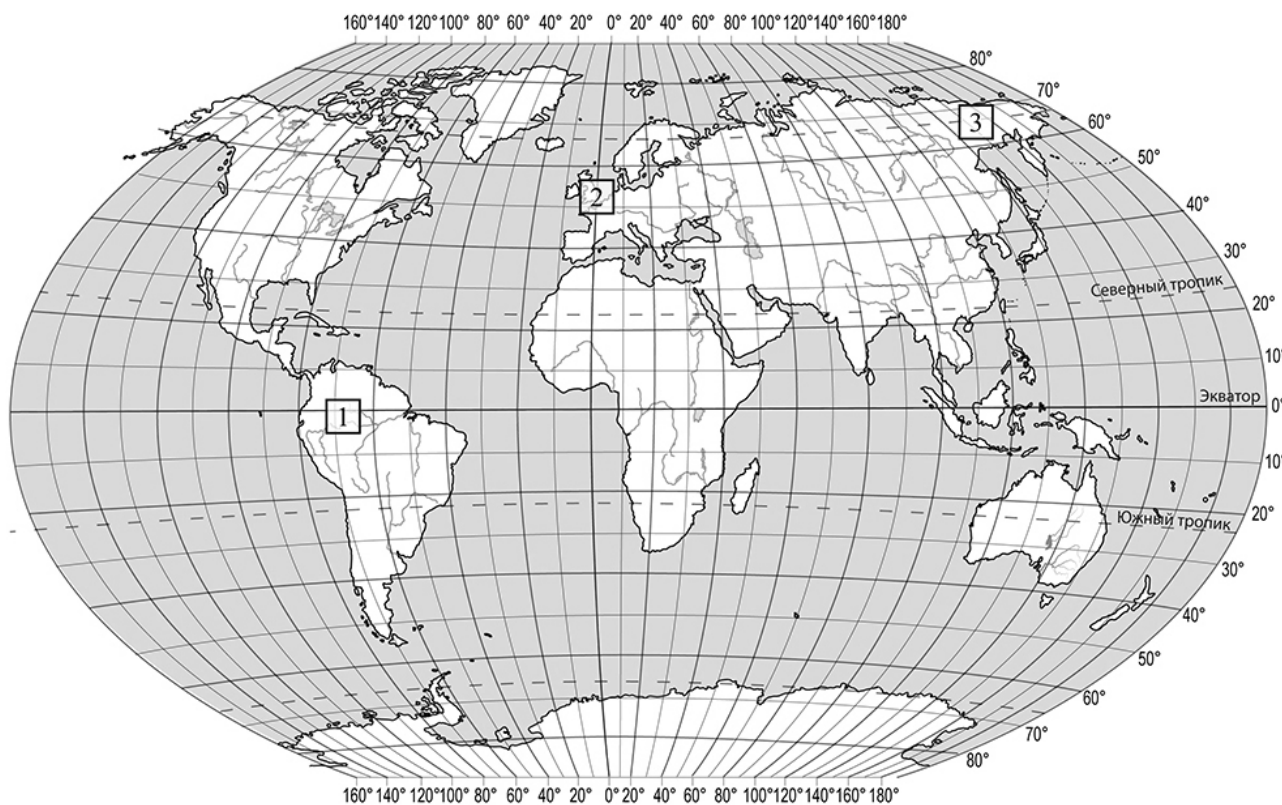
Содержание верного ответа и указания по оцениванию	Баллы								
Правильный ответ должен содержать таблицу с внесёнными в неё значками полезных ископаемых:									
<table border="1" style="width: 100%; text-align: center;"> <tr> <td>Золото</td> <td>Алмазы</td> <td>Никелевые руды</td> <td>Титановые руды</td> </tr> <tr> <td></td> <td></td> <td></td> <td></td> </tr> </table>	Золото	Алмазы	Никелевые руды	Титановые руды					
Золото	Алмазы	Никелевые руды	Титановые руды						
									
Правильно заполнены четыре ячейки таблицы	2								
Правильно заполнены три ячейки таблицы	1								
Правильно заполнены одна-две ячейки таблицы. ИЛИ Все ячейки таблицы заполнены неправильно / не заполнены	0								
<i>Максимальный балл</i>	2								

3

Рассмотрите рисунки с изображением климатограмм, построенных по данным метеонаблюдений в разных частях Земли, и выполните задания.



3.2. На карте мира, приведённой на странице 4, территории, для которых построены изображённые на рисунках климатограммы, обозначены пустыми квадратами. Впишите в каждый квадрат на карте номер соответствующей климатограммы.



Содержание верного ответа и указания по оцениванию	Баллы
Правильный ответ должен содержать запись трёх номеров климатограмм в пустые квадраты на карте	
Правильно вписаны три номера климатограмм	1
Правильно вписан только один номер климатограммы. ИЛИ Ответ неправильный	0
<i>Максимальный балл</i>	<i>1</i>

3.3. Какой природной зоне мира соответствуют приведённые ниже характеристики? Укажите в ответе название этой природной зоны.

- 1) Образует три основных массива: в Африке, Южной Америке и Азии.
- 2) Отсутствует смена сезонов года, жарко и влажно круглый год.
- 3) Деревья образуют много ярусов, ветви и стволы деревьев обвиты лианами.
- 4) Некоторые растения имеют воздушные корни, поглощающие влагу прямо из воздуха.
- 5) Большинство животных приспособлено к жизни на деревьях.

Выберите климатограмму, соответствующую климатическим особенностям указанной Вами природной зоны. Укажите в ответе её номер.

Содержание верного ответа и указания по оцениванию	Баллы
Правильный ответ должен содержать <u>следующие элементы</u> : 1) <u>название природной зоны</u> : влажные экваториальные леса; 2) <u>номер климатограммы</u> : 1	
Правильно указаны название природной зоны и номер климатограммы	2
Правильно указано название природной зоны; номер климатограммы не указан / указан неправильно	1
Название природной зоны не указано независимо от указания номера климатограммы. ИЛИ Ответ неправильный	0
<i>Максимальный балл</i>	2

3.4. По выбранной Вами в задании 3.3 климатограмме определите климатические показатели для указанной природной зоны и заполните таблицу.

Содержание верного ответа и указания по оцениванию	Баллы												
Правильный ответ должен содержать заполненную таблицу:													
<table border="1" style="width: 100%; text-align: center;"> <thead> <tr> <th colspan="2">Средняя температура воздуха, °С</th> <th rowspan="2">Годовая амплитуда температур, °С</th> <th rowspan="2">Годовое количество осадков, мм</th> <th rowspan="2">Месяц, на который приходится наибольшее количество осадков</th> </tr> <tr> <th>в январе</th> <th>в июле</th> </tr> </thead> <tbody> <tr> <td>+28</td> <td>+28</td> <td>0</td> <td>3120</td> <td>апрель</td> </tr> </tbody> </table>	Средняя температура воздуха, °С		Годовая амплитуда температур, °С	Годовое количество осадков, мм	Месяц, на который приходится наибольшее количество осадков	в январе	в июле	+28	+28	0	3120	апрель	
Средняя температура воздуха, °С		Годовая амплитуда температур, °С				Годовое количество осадков, мм	Месяц, на который приходится наибольшее количество осадков						
в январе	в июле												
+28	+28	0	3120	апрель									
Правильно заполнены все ячейки таблицы	2												
В таблице допущена одна ошибка	1												
В таблице допущено две или более ошибки. ИЛИ Ответ неправильный	0												
<i>Максимальный балл</i>	2												

5

5.2. В приведённом ниже списке перечислены крупные географические объекты. Выберите из представленного ниже списка названия географических объектов, расположенных на территории одного из этих материков, и заполните схему. Впишите в схему название материка, типы и названия выбранных Вами географических объектов.

Каир, Купер-Крик, Амур, Арафурское, Оттава, Средиземное, Эребус, Красное, Канберра, Парана, Сидней, Байкал

Содержание верного ответа и указания по оцениванию	Баллы
<p>Правильный ответ должен содержать заполненную схему с вписанными в неё названием материка, типами и названиями географических объектов.</p> <div style="text-align: center; border: 1px solid black; padding: 10px;"> <p>Материк <i>Австралия</i></p> <hr style="width: 50%; margin: 0 auto;"/> <div style="display: flex; justify-content: space-around; margin-top: 10px;"> <div style="border: 1px solid black; padding: 5px; width: 25%;">города</div> <div style="border: 1px solid black; padding: 5px; width: 25%; text-align: center;"><i>реки</i></div> <div style="border: 1px solid black; padding: 5px; width: 25%;">моря</div> </div> <div style="display: flex; justify-content: space-around; margin-top: 10px;"> <div style="border: 1px solid black; padding: 5px; width: 25%; text-align: center;"><i>Сидней</i> <i>Канберра</i></div> <div style="border: 1px solid black; padding: 5px; width: 25%; text-align: center;">Муррей <i>Купер-Крик</i></div> <div style="border: 1px solid black; padding: 5px; width: 25%; text-align: center;">Тасманово <i>Арафурское</i></div> </div> </div>	
Схема заполнена правильно	3
В заполнении схемы допущена одна ошибка	2
В заполнении схемы допущено две ошибки	1
В заполнении схемы допущено три или более ошибки. ИЛИ Ответ неправильный	0
<i>Максимальный балл</i>	3


6

Астрид и Мэй познакомились на олимпиаде по географии. Астрид живёт в столице Швеции, а Мэй – в столице Китая. Подростки общаются через Интернет, и при общении им приходится учитывать разницу во времени между их городами.

6.1. На политической карте мира, приведённой на странице 11, выделите штриховкой страны, в которых живут подростки.


Содержание верного ответа и указания по оцениванию	Баллы
Правильный ответ должен содержать <u>выделение на карте двух стран</u> : Швеции и Китая	
Правильно выделены две страны	1
Правильно выделена только одна любая страна; вторая страна не выделена / выделена неправильно. ИЛИ Страны не выделены / выделены неправильно	0
<i>Максимальный балл</i>	<i>1</i>

6.2. Часы на рисунках отображают время в городах, где живут подростки. Подпишите названия городов под соответствующими часами.




Гринвич

24:00 (полночь)



Стокгольм

1 октября
01:00

Пекин

1 октября
08:00

Содержание верного ответа и указания по оцениванию	Баллы
Правильный ответ должен содержать <u>подписи названий двух городов</u> : Стокгольма (столицы Швеции) и Пекина (столицы Китая)	
Правильно подписаны названия двух городов	1
Правильно подписано название только одного любого города; название другого города не подписано / подписано неправильно. ИЛИ Названия городов не подписаны / подписаны неправильно	0
<i>Максимальный балл</i>	<i>1</i>

7. Используя представленную ниже таблицу и политическую карту мира, приведённую на странице 11, выполните задания.

Численность и состав населения, 2017 г.

№	Страна	Численность населения, млн человек	Возрастной состав, %		
			Доля населения в возрасте до 15 лет	Доля населения в возрасте от 15 до 65 лет	Доля населения в возрасте старше 65 лет
1	Новая Зеландия	4,5	19	66	15
2	Ангола	30	48	50	2
3	Бразилия	211	22	69	9
4	Италия	62	14	64	22

- 7.1. Подпишите на политической карте мира название страны с самой большой численностью населения.

Содержание верного ответа и указания по оцениванию	Баллы
Правильный ответ должен содержать <u>подпись страны на карте</u> : Бразилия	
Страна на карте подписана правильно	1
Страна на карте не подписана / подписана неправильно	0
<i>Максимальный балл</i>	<i>1</i>

8. Представьте, что Вам было поручено взять интервью у зарубежного сверстника, чтобы он познакомил Вас со своей страной. Для иллюстрации этого интервью Вы попросили его прислать несколько фотографий, сделанных в стране, в которой он живёт.

- 8.1. Рассмотрите фотографии и ответьте на вопросы.



- В какой стране живёт Ваш сверстник?
Как называется столица этой страны?

Содержание верного ответа и указания по оцениванию	Баллы
Правильный ответ должен содержать <u>ответы на два вопроса</u> : 1) <u>ответ на первый вопрос</u> : в Индии; 2) <u>ответ на второй вопрос</u> : Нью-Дели	
Правильно даны ответы на два вопроса	2
Правильно дан ответ только на первый вопрос; ответ на второй вопрос не дан / дан неправильно	1
Правильно дан ответ только на второй вопрос; ответ на первый вопрос не дан / дан неправильно. ИЛИ Ответы на оба вопроса не даны / даны неправильно	0
<i>Максимальный балл</i>	2

8.3. Предположите, какие ответы на вопросы о своей стране даст Ваш сверстник в ходе интервью. Запишите их в таблицу.

Содержание верного ответа и указания по оцениванию		Баллы
Правильный ответ должен содержать <u>ответы на семь вопросов</u> .		
Вопрос	Ответ	
1. В какой части света находится твоя страна?	<i>В Азии</i>	
2. Какой океан омывает берега твоей страны?	<i>Индийский океан</i>	
3. Какие горы есть в твоей стране?	<i>Гималаи</i>	
4. Какие крупные города, кроме столицы, есть в твоей стране?	<i>Мумбаи, Ченнаи, Калькутта, Бангалор, Ахмадабад</i>	
5. В какой сфере хозяйства занято большинство жителей твоей страны?	<i>В сельском хозяйстве</i>	
6. Какие сельскохозяйственные культуры выращивают в твоей стране?	<i>Рис, хлопчатник, сахарный тростник, чай, джут, пряности</i>	
7. Какие достопримечательности можно посмотреть в твоей стране?	<i>Тадж-Махал, город Варанаси, храм Лотоса, Ворота Индии в Мумбаи, Красный форт в Агре</i>	
Ответы на вопросы могут быть даны в иных, близких по смыслу формулировках. В ответах, предполагающих указание нескольких объектов, при оценивании может быть засчитано указание одного объекта		
Правильно даны ответы на все вопросы		2
Правильно даны ответы на пять-шесть вопросов; в ответе на один-два вопроса допущены ошибки / ответы на один-два вопроса не представлены		1
Правильно даны ответы на один – четыре вопроса. ИЛИ Ответ неправильный		0
<i>Максимальный балл</i>		2

Система оценивания выполнения всей работы

Максимальный балл за выполнение работы – 37.

Рекомендации по переводу первичных баллов в отметки по пятибалльной шкале

Отметка по пятибалльной шкале	«2»	«3»	«4»	«5»
Первичные баллы	0 – 10	11 – 25	26 – 32	33 – 37