

Система оценивания проверочной работы


Полный правильный ответ на каждое из заданий 1.1, 2.2, 3.2, 4.1, 4.2 и 5.2 оценивается 1 баллом. Если в ответе допущена одна ошибка (один из элементов ответа записан неправильно или не записан), выставляется 0 баллов.

Полный правильный ответ на каждое из заданий 5.1, 7 и 8.2 оценивается 2 баллами. Если в ответе допущена одна ошибка, выставляется 1 балл; если допущено две или более ошибки – 0 баллов.


1.1	А – Евразия Б – Северная Америка
2.2	Японские острова / Японский архипелаг
3.2	200 метров (допускается погрешность ± 10 метров)
4.1	20.00; 21.00
4.2	Елена ужинает
5.1	121122
5.2	А – тайга Б – степь
7	256 (в любой последовательности)
8.2	А – Индия Б – Мексика В – Эфиопия Г – Италия

1

1.2. С каким из названных Вами материков связаны открытия путешественников и исследователей, изображённых на портретах? Укажите название материка.



Марко Поло



Афанасий Никитин

Подпишите на карте океаны, омывающие берега указанного Вами материка.

Содержание верного ответа и указания по оцениванию	Баллы
Правильный ответ должен содержать следующие <u>элементы</u> : 1) <u>название материка</u> : Евразия; 2) <u>подписи океанов на карте</u> : Индийский, Тихий, Атлантический, Северный Ледовитый	
Правильно указано название материка, подписаны четыре океана	2
Правильно указано название материка, подписаны два-три океана	1
Правильно указано название материка, подписан только один океан. ИЛИ Правильно указано только название материка, ни один океан не подписан / не подписан правильно. ИЛИ Название материка не указано / указано неправильно независимо от наличия/отсутствия подписей океанов	0
<i>Максимальный балл</i>	2

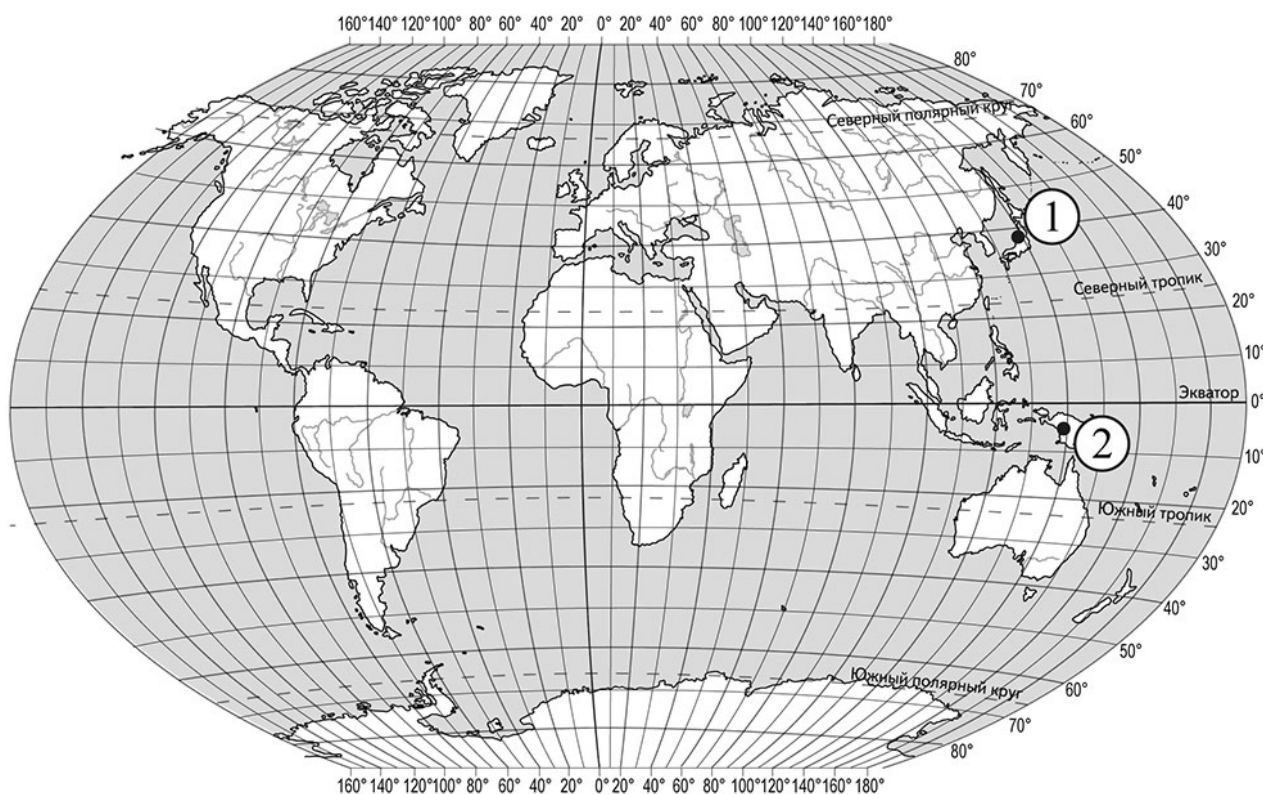
2

2.1. Поставьте точки на карте по приведённым ниже координатам. Обозначьте эти точки соответственно цифрами 1 и 2.

Точка 1 – 38° с. ш. 139° в. д.

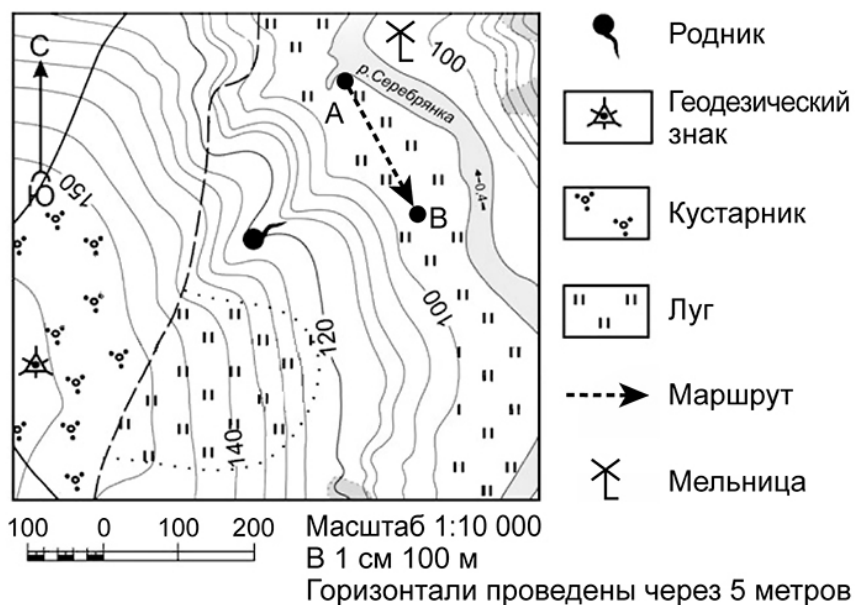
Точка 2 – 5° ю. ш. 139° в. д.

В каком направлении от точки 1 расположена точка 2?



Содержание верного ответа, критерии и указания по оцениванию		Баллы
К1	Отметка двух точек на карте	1
	Две точки на карте отмечены правильно. <i>Допускается погрешность $\pm 2^\circ$</i>	1
	На карте правильно отмечена только одна точка / точки не отмечены / отмечены неправильно	0
	<i>Если по критерию К1 выставлен 0 баллов, то по критерию К2 выставляется 0 баллов</i>	
К2	Указание направления	1
	Направление указано правильно: в южном / на юг	1
	Направление не указано / указано неправильно	0
<i>Максимальный балл</i>		2

3



3.1. На каком берегу реки Серебрянки находится родник?
 В каком направлении от родника расположен геодезический знак?

Содержание верного ответа и указания по оцениванию	Баллы
Правильный ответ должен содержать <u>ответы на два вопроса</u> : 1) на левом берегу; 2) в юго-западном направлении / на юго-запад	
Правильно даны ответы на два вопроса	2
Правильно дан ответ только на один любой вопрос	1
Ответы на вопросы не даны / даны неправильно	0
<i>Максимальный балл</i>	2

3.3. Какой из изображённых на фотографиях объектов может быть сооружён на участке, показанном на карте точкой А? Запишите в ответе **номер** фотографии. Обоснуйте свой ответ.



1 – автобусная остановка



2 – лодочная станция

Содержание верного ответа и указания по оцениванию	Баллы
<p>Правильный ответ должен содержать следующие <u>элементы</u>:</p> <p>1) <u>указание объекта</u>: 2 – лодочная станция;</p> <p>2) <u>обоснование</u>, например: точка А расположена на пологом берегу реки, что удобно для создания лодочной станции, а автобусная остановка сооружается на автомобильной трассе / шоссе / улице.</p> <p>Обоснование может быть приведено в иной, близкой по смыслу формулировке</p>	
Правильно указан объект, приведено обоснование	2
Правильно указан только объект	1
Объект не указан / указан неправильно независимо от наличия/отсутствия обоснования	0
<i>Максимальный балл</i>	2

4

4.3. Что в это же время делает её сверстница Ольга, которая живёт в Астрахани, если она соблюдает тот же режим дня, что и Елена?

Обоснуйте свой ответ и укажите, чем обусловлена разница во времени в разных частях Земли.

РЕЖИМ ДНЯ ШКОЛЬНИКА

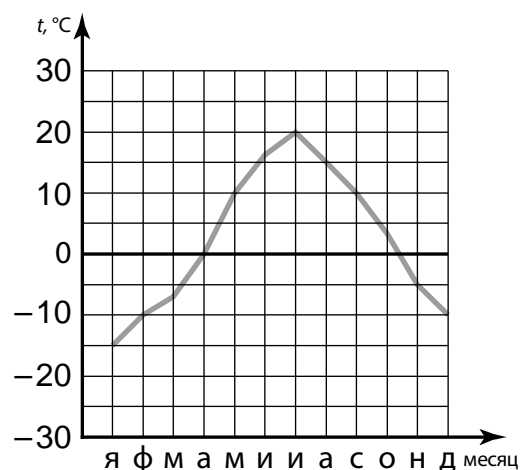
7.00	<i>Подъём</i>
7.05 – 7.25	<i>Утренняя зарядка</i>
7.25 – 7.35	<i>Гигиенические процедуры</i>
7.35 – 8.05	<i>Завтрак</i>
8.10 – 8.25	<i>Дорога в школу</i>
8.30 – 13.15	<i>Уроки в школе</i>
13.20 – 13.35	<i>Дорога домой</i>
13.45 – 14.15	<i>Обед</i>
14.15 – 16.15	<i>Занятия в кружке/секции</i>
16.30 – 16.45	<i>Полдник</i>
16.45 – 18.15	<i>Выполнение домашних заданий</i>
18.30 – 19.30	<i>Прогулка</i>
19.45 – 20.15	<i>Ужин</i>
20.15 – 21.45	<i>Просмотр телепередач, чтение книг, настольные игры</i>
21.45 – 22.15	<i>Подготовка ко сну</i>
22.15 – 7.00	<i>Ночной сон</i>

Содержание верного ответа и указания по оцениванию	Баллы
<p>Правильный ответ должен содержать следующие <u>элементы</u>:</p> <p>1) <u>ответ на вопрос</u>: Ольга смотрит телепередачу / читает книгу / играет в настольную игру;</p> <p>2) <u>обоснование</u>, например: когда в Мурманске 20 часов, в Астрахани 21 час, поэтому, когда Елена ужинает, Ольга уже смотрит телепередачу / читает книгу / играет в настольную игру;</p> <p>3) <u>указание того, чем обусловлена разница во времени</u>, например: разница во времени обусловлена вращением Земли вокруг своей оси.</p> <p>Обоснование и указание могут быть приведены в иных, близких по смыслу формулировках</p>	
Правильно дан ответ на вопрос, приведены обоснование и указание	3
Правильно дан ответ на вопрос и приведено обоснование. ИЛИ Правильно дан ответ на вопрос и приведено указание	2
Правильно дан только ответ на вопрос	1
Ответ на вопрос дан неправильно независимо от наличия/отсутствия других элементов ответа	0
<i>Максимальный балл</i>	3

6

На метеорологической станции города N в течение года наблюдали за температурой воздуха. По результатам наблюдений метеорологи построили график годового хода температуры. Рассмотрите график годового хода температуры и ответьте на вопросы.

6.1. Какой месяц был самым холодным в году?
Какова годовая амплитуда температур?



Содержание верного ответа и указания по оцениванию	Баллы
Правильный ответ должен содержать <u>ответы на два вопроса</u> : 1) январь; 2) 35 °C	
Правильно даны ответы на два вопроса	2
Правильно дан ответ только на один любой вопрос	1
Ответы на вопросы не даны / даны неправильно	0
<i>Максимальный балл</i>	2

6.2. На каком рисунке знаками отображена погода в тот день, когда температура воздуха опустилась ниже 15 градусов мороза? Укажите букву, которой обозначен этот рисунок. Составьте описание погоды в этот день.

А	●	✱	→	-16 °C	85%
Б	○		↖	-6 °C	40%
В	●	●●	↘	+18 °C	90%

Содержание верного ответа, критерии и указания по оцениванию		Баллы
К1	Указание рисунка	1
	Правильно указан рисунок: А	1
	Рисунок не указан / указан неправильно	0
	<i>Если по критерию К1 выставлен 0 баллов, то по критерию К2 выставляется 0 баллов</i>	

К2	Описание погоды	2
	Правильно представлено описание погоды с учётом всех показателей, отображённых на рисунке знаками, например: в этот день была пасмурная погода, шёл снег, дул западный ветер, температура воздуха была минус 16 градусов, влажность воздуха – 85%. Описание может быть приведено в иной, близкой по смыслу формулировке	2
	Представлено описание погоды с учётом всех показателей, отображённых на рисунке знаками, допущена одна ошибка / не учтён один из показателей	1
	В описании погоды допущено две или более ошибки. ИЛИ В описании погоды не учтены два или более показателя. ИЛИ Описание погоды не представлено	0
<i>Максимальный балл</i>		3

8

8.1. Используя приведённую ниже таблицу, выполните задания.

Численность и состав населения, 2018 г.

№	Страна	Численность населения, млн человек	Состав населения, %	
			городское	сельское
1	Мексика	133	80	20
2	Эфиопия	108	21	79
3	Италия	60	70	30
4	Индия	1370	33	67

Расположите страны в порядке **увеличения** численности населения, начиная со страны с самой маленькой численностью. Запишите в ответе последовательность порядковых номеров этих стран.

В какой стране наибольшая доля городского населения? Запишите в ответе название страны.

В каких странах преобладает сельское население? Запишите в ответе названия стран.

Содержание верного ответа и указания по оцениванию	Баллы
Правильный ответ должен содержать следующие <u>элементы</u> : 1) <u>последовательность номеров стран</u> : 3214; 2) <u>ответ на первый вопрос</u> : в Мексике; 3) <u>ответ на второй вопрос</u> : в Эфиопии и Индии	
Правильно указана последовательность номеров стран и даны ответы на два вопроса	2
Правильно указана последовательность номеров стран и дан ответ на один любой вопрос. ИЛИ Правильно даны только ответы на два вопроса	1
Правильно указана только последовательность номеров стран. ИЛИ Правильно дан ответ только на один любой вопрос. ИЛИ Ответ неправильный	0
<i>Максимальный балл</i>	2

9

Рассмотрите фотографию с изображением опасного явления природы. Запишите его название.

Составьте краткое описание этого природного явления (объёмом до пяти предложений). Какие правила поведения следует соблюдать, если это природное явление застало Вас за городом? Запишите не менее двух правил.



Содержание верного ответа и указания к оцениванию		Баллы
К1	Указание опасного явления природы	1
	Правильно определено опасное явление природы: <u>гроза/молния</u> . <i>При оценивании как правильный ответ засчитывается любое допустимое название данного явления</i>	1
	Опасное явление природы не определено / определено неправильно	0
	<i>Если по критерию К1 выставлен 0 баллов, то по всем остальным критериям оценивания выставляется 0 баллов</i>	
К2	Описание этого природного явления	1
	<i>При оценивании в качестве правильного может быть принято описание природного явления в любом объёме</i>	
	Описание содержит основные сведения о природном явлении. Фактических ошибок нет	1
	В описании допущены фактические ошибки. ИЛИ Приведены рассуждения общего характера, не содержащие сведений о природном явлении. ИЛИ Описание не представлено	0
К3	Указание правил поведения	1
	Правильно указано не менее двух любых правил поведения, например: во время грозы нельзя: – прятаться под деревьями / прислоняться к стволам деревьев; – купаться / находиться вблизи водоёма; – пользоваться мобильным телефоном; – прикасаться к металлическим предметам; – ложиться на землю; – пересекать открытые пространства (поле, луг); во время грозы следует: – укрыться в овраге или лощине; – сесть на корточки и обхватить голову руками. Допускаются иные формулировки ответа, не искажающие его смысла	1
	Правильно указано только одно правило безопасного поведения. ИЛИ Ответ неправильный	0
<i>Максимальный балл</i>		3

10

10.1. Запишите название региона: республики, или области, или края, или автономного округа, или города федерального значения, в котором Вы живёте.

Как называется главный город Вашего региона? / Как называется населённый пункт / округ / муниципальный район города, в котором Вы живёте / расположена Ваша школа?

Указания к оцениванию		Баллы
Правильно указаны название региона и его главный город / населённый пункт / округ / муниципальный район города		1
Правильно указано только название региона. ИЛИ Правильно указан только главный город региона / населённый пункт / округ / муниципальный район города. ИЛИ Ответ неправильный		0
<i>Максимальный балл</i>		<i>1</i>

10.2. Какие животные обитают в естественной среде на территории Вашего региона? Укажите не менее трёх названий животных. Опишите одного из представителей животного мира региона.

Критерии и указания к оцениванию		Баллы
К1	Указание крупных городов	1
	Правильно указаны три названия животных, обитающих на территории региона	1
	Правильно указано менее трёх названий животных, обитающих на территории региона. ИЛИ Названия животных, обитающих на территории региона, не указаны / указаны неправильно	0
	<i>Если по критерию К1 выставлен 0 баллов, то по критерию К2 выставляется 0 баллов</i>	
К2	Описание одного из представителей животного мира	2
	Описание содержит основные сведения о животном. Фактических ошибок нет	2
	Описание содержит основные сведения о животном. Допущено не более двух фактических ошибок	1
	Приведены сведения, не соответствующие требованию задания	0
<i>Максимальный балл</i>		<i>3</i>

Система оценивания выполнения всей работы

Максимальный балл за выполнение работы – 37.

Рекомендации по переводу первичных баллов в отметки по пятибалльной шкале

Отметка по пятибалльной шкале	«2»	«3»	«4»	«5»
Первичные баллы	0–9	10–21	22–30	31–37