

**Проверочная работа
по МАТЕМАТИКЕ**

6 КЛАСС

Вариант 3

Инструкция по выполнению работы

На выполнение работы по математике даётся 60 минут. Работа содержит 13 заданий.

В заданиях, после которых есть поле со словом «Ответ», запишите ответ в указанном месте.

В задании 12 нужно сделать чертёж или рисунок.

В заданиях, после которых есть поле со словами «Решение» и «Ответ», запишите решение и ответ в указанном месте.

Если Вы хотите изменить ответ, зачеркните его и запишите рядом новый.

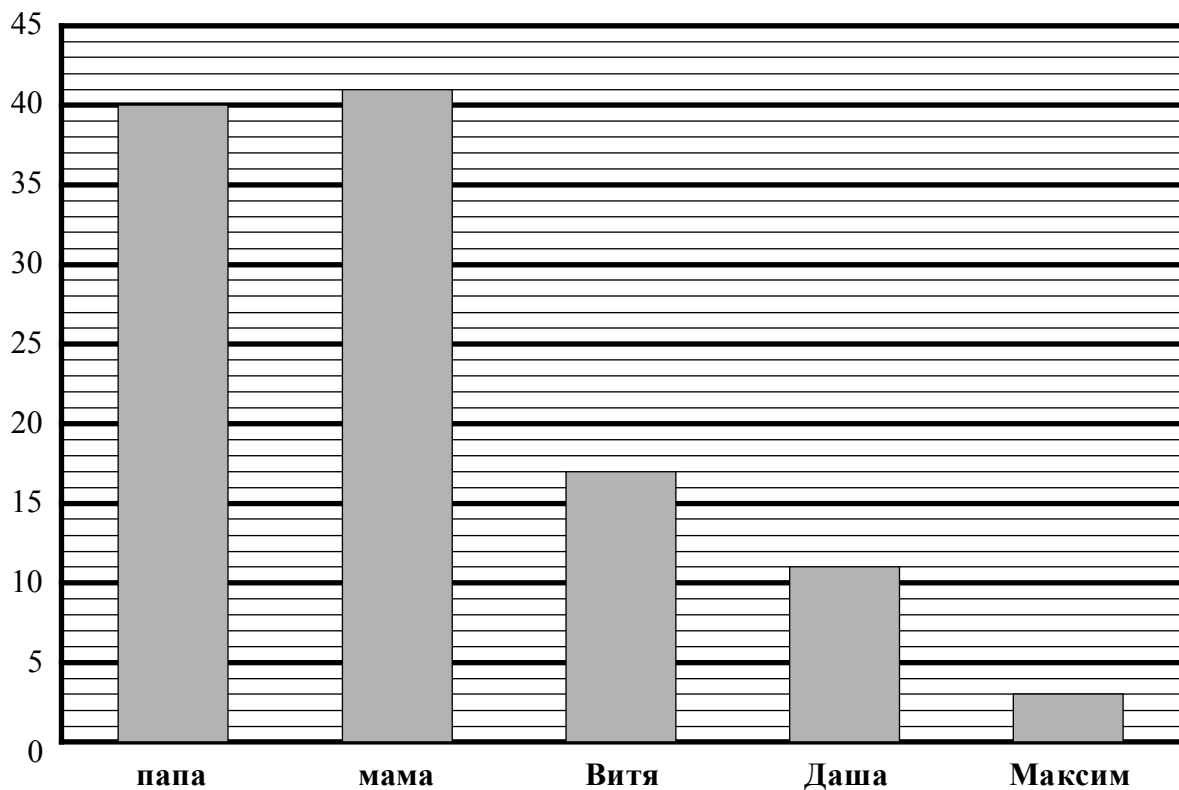
При выполнении работы нельзя пользоваться учебниками, рабочими тетрадями, справочниками, калькулятором.

При необходимости можно пользоваться черновиком. Записи в черновике проверяться и оцениваться не будут.

Советуем выполнять задания в том порядке, в котором они даны. Для экономии времени пропускайте задание, которое не удаётся выполнить сразу, и переходите к следующему. Постарайтесь выполнить как можно больше заданий.

6

В семье трое детей. Дочь Даша составила диаграмму возрастов членов семьи.

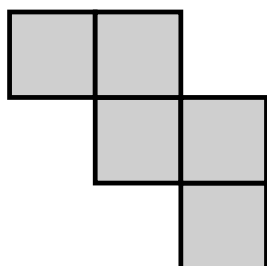


Определите по диаграмме, на сколько лет Даша младше своего старшего брата.


Ответ:	
--------	--

12

Из клетчатой бумаги вырезали две фигурки.

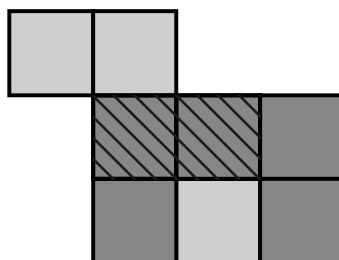


1



2

Витя сумел закрыть фигуркой 2 ровно две клеточки фигурки 1.



Покажите, как можно закрыть фигуркой 2 ровно три клеточки фигурки 1 (фигурку 2 можно поворачивать).

